


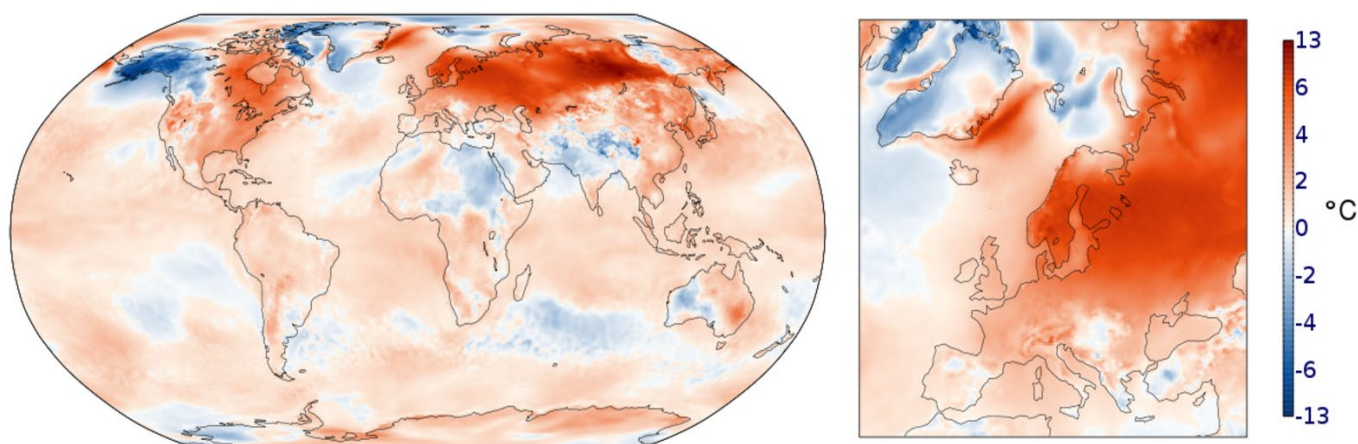
Názov a kód projektu	Moderné vzdelávanie pre prax 2 / 312011ACM2	Názov pedagogického klubu
Pracovný list	Logika	Klub matematickej gramotnosti
Charakteristika	Čítanie mapy, grafov	

	Kľúčové slová
Mapa, graf	

Pracovné úlohy 

1.	Pomocou grafického vysvetlenia k mape odpoďadaj na otázky: 
----	---

Surface air temperature anomaly for January 2020 relative to 1981-2010

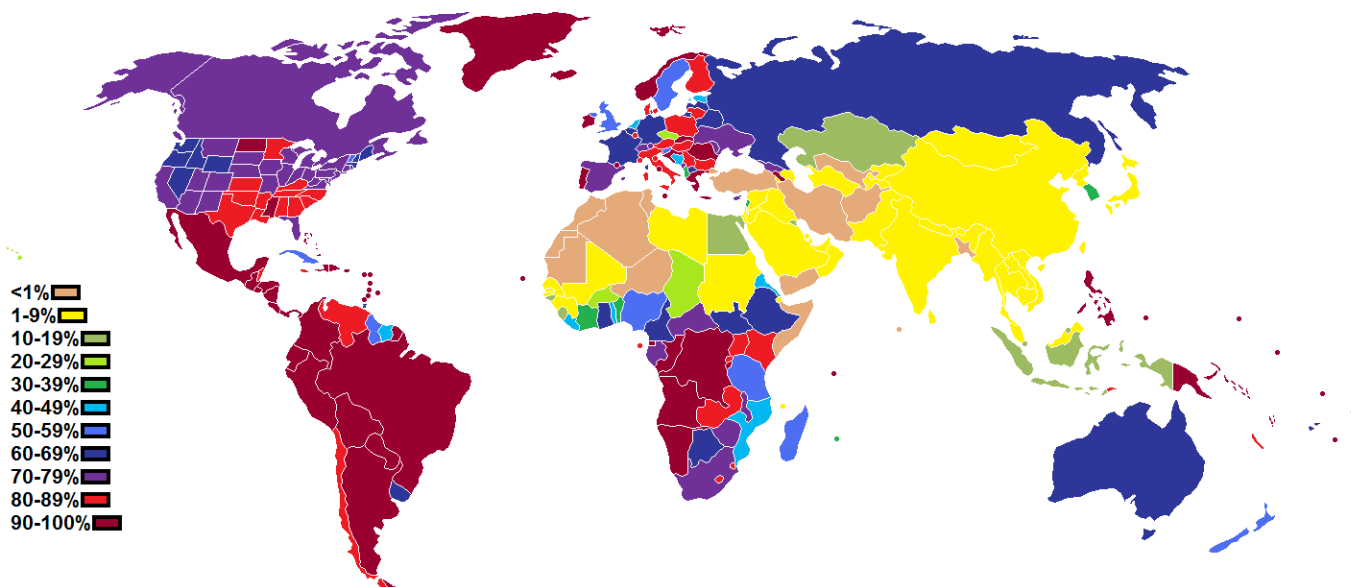


Obr. : Odchýlky priemernej teploty vzduchu meranej vo výške 2 m voči dlhodobému priemeru 1981 - 2010 v platnosti pre "európsky január" 2020 a "globálny január" 2020

Napíšte aký rozdiel v stupňoch bol v januári 2020 na Aljašskom polostrove oproti dlhodobému priemeru.	
Napíšte v ktorej časti Európy došlo k najväčšiemu navýšeniu priemernej teploty v januári 2020 oproti dlhodobému priemeru.	
Napíšte, ktorý kontinent mal len pozitívnu odchýlku od dlhodobého priemeru.	
Napíšte či sa oceány na väčšine plochy ochladili alebo oteplili?	

2. Pomocou grafického vysvetlenia k mape odpovedaj na otázky:

KREŠŤANIA VO SVETE (2010)



Napíšte, ktorý kontinent je najviac kresťanský založený.

Napíšte v ktorej časti sveta je najmenej kresťanov.

Napíšte v akom percentuálnom rozpätí podielu kresťanov sa nachádza Austrália.

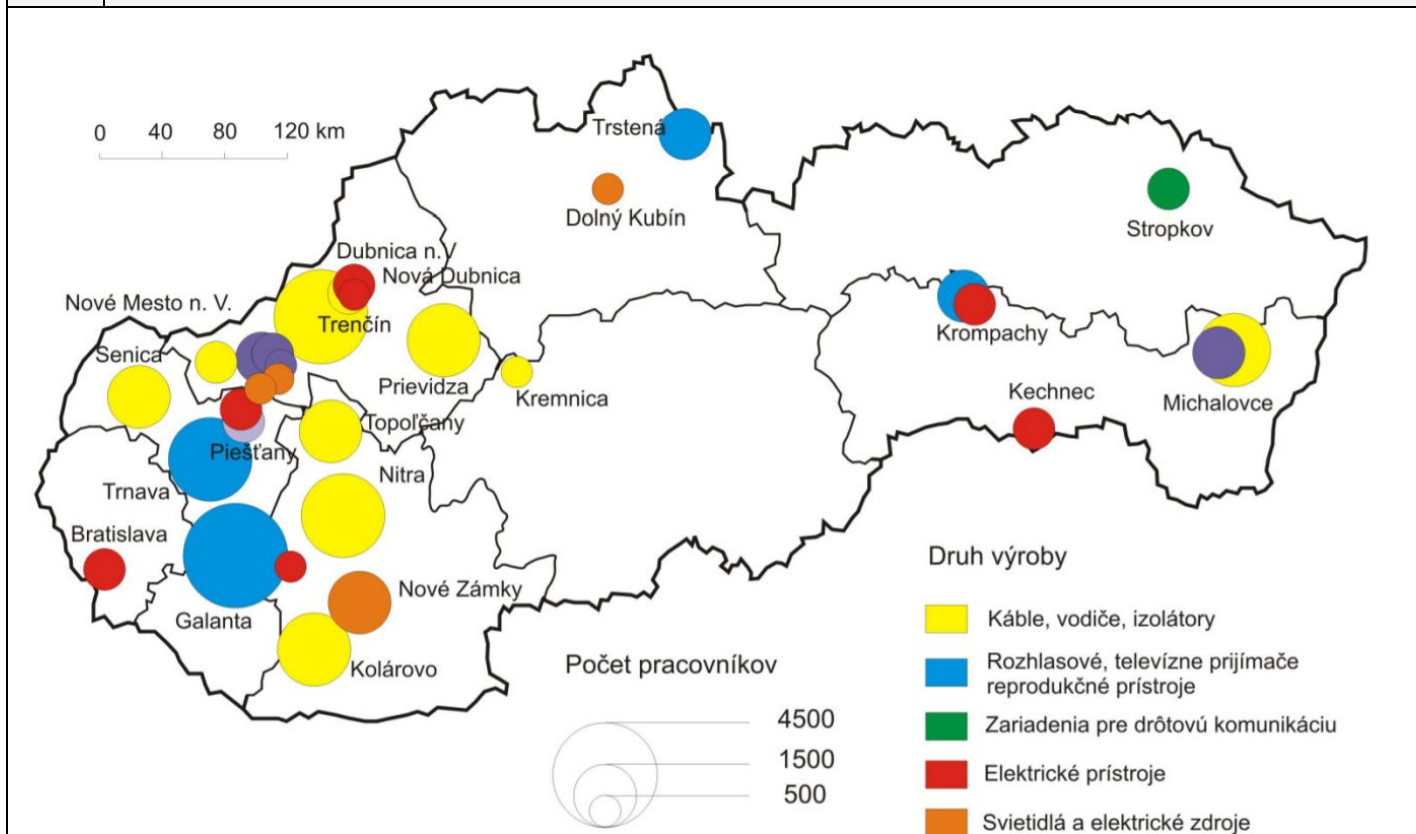
Napíšte či je väčšie zastúpenie kresťanov na severe alebo juhu Afriky

Napíšte štát Európy, ktorého obyvateľstvo má nízky podiel kresťanov oproti iným štátom Európy.

Napíšte či má Čína viac ako 50% obyvateľstva kresťanov.

Vyhľadajte na mape v ktorej časti Ázie žije najviac kresťanov a podľa atlasu určite o aký štát ide.

3. Pomocou grafického vysvetlenia k mape odpovedaj na otázky:



Mapa: Priestorová štruktúra elektrotechnického priemyslu na Slovensku (2007)

Napíšte aké druhy výroby sú v Krompachoch.	
Napíšte aký druh výroby dominuje v Trenčíne.	
Napíšte koľko pracovníkov je zamestnaných v elektrotechnickom priemysle v Prievidzi.	
Napíšte koľko pracovníkov je zamestnaných v elektrotechnickom priemysle v Galante.	
Vzdialenosť medzi Kremnicou a Michalovcami je väčšia ako 120 km?	
Pracuje v Bratislave viac pracovníkov zamestnaných v elektrotechnickom priemysle ako v Piešťanoch?	
Napíšte v ktorom meste sa vyrábajú zariadenia pre drôtovú komunikáciu.	